

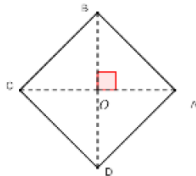
TD : LA ROTATION DANS LE PLAN AVEC CORRECTIONS

Exercice1 : ABCD est un carré de centre O tel que : $(\overrightarrow{AB}, \overrightarrow{AD})$ positif. Soit r_A la rotation de

centre A et d'angle $\frac{\pi}{2}$ et r_O une rotation de centre O et d'angle α .

- 1) Déterminer $r_A(A)$; $r_A(B)$; $r_A(D)$,
- 2) Comment choisir α pour avoir $r_O(A) = B$?

Comment choisir α pour avoir $r_O(A) = C$?



Solution : $r_A\left(A; \frac{\pi}{2}\right)$ et $r_O(O; \alpha)$

- $r_A(A) = A$ Car le centre est le seul point invariant.
- $r_A(B) = D$ Car $\begin{cases} AB = AD \\ (\overrightarrow{AB}, \overrightarrow{AD}) \equiv \frac{\pi}{2} [2\pi] \end{cases}$
- $r_A(D) = B'$ avec B' le symétrique de B par rapport à A

$$2) r_O(A) = B \Leftrightarrow \alpha = \frac{\pi}{2}$$

$$r_O(A) = C \Leftrightarrow \alpha = \pi$$

Exercice2 : ABCD est un carré tel que : $(\overrightarrow{AB}, \overrightarrow{AD})$ positif et Soit r la rotation de centre A et d'angle $\pi/2$

Décomposer la rotation r en composée de deux symétries orthogonales

Solution : $r = S_{(AD)} \circ S_{(AC)}$ car $(AD) \cap (AC) = \{A\}$

$$\text{et } (\overrightarrow{AC}, \overrightarrow{AD}) \equiv \frac{\pi}{4} [2\pi] \text{ OU } r = S_{(AC)} \circ S_{(AB)}$$

$$\text{car } (AB) \cap (AC) = \{A\}$$

$$\text{et } (\overrightarrow{AB}, \overrightarrow{AC}) \equiv \frac{\pi}{4} [2\pi]$$

Exercice3 : ABC est un triangle. On construit à l'extérieur deux triangles ABD et ACE isocèles et rectangles en A

Solution :

Soit r la rotation de centre A et d'angle $\frac{\pi}{2}$

$$\text{On a : } \begin{cases} AD = AB \\ (\overrightarrow{AD}, \overrightarrow{AB}) \equiv \frac{\pi}{2} [2\pi] \end{cases}$$

donc : $r(D) = B$ ❶

$$\text{On a : } \begin{cases} AC = AE \\ (\overrightarrow{AC}, \overrightarrow{AE}) \equiv \frac{\pi}{2} [2\pi] \end{cases}$$

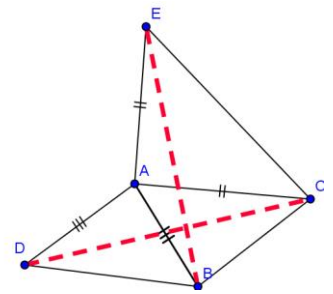
donc : ❷ $r(C) = E$

Et puisque la rotation conserve les distances

Alors de ❶ et ❷ en déduit que $BE = CD$

2) on a $r(D) = B$ et $r(C) = E$

Donc : $(\overrightarrow{CD}, \overrightarrow{EB}) \equiv \frac{\pi}{2}$ par suite : $(BE) \perp (CD)$



Exercice4 : ABC est un triangle tel que : $(\overrightarrow{AB}, \overrightarrow{AC})$ positif. On construit à l'extérieur les carrés ABDE et ACFG

Soit r la rotation de centre A et d'angle $\frac{\pi}{2}$

déterminer : $r(E)$ et $r(C)$

Et Montrer que : $(\overrightarrow{CA}, \overrightarrow{CE}) \equiv (\overrightarrow{GA}, \overrightarrow{GB}) [2\pi]$

Solution :

$$\text{on a : } \begin{cases} AE = AB \\ (\overrightarrow{AE}, \overrightarrow{AB}) \equiv \frac{\pi}{2} [2\pi] \end{cases}$$

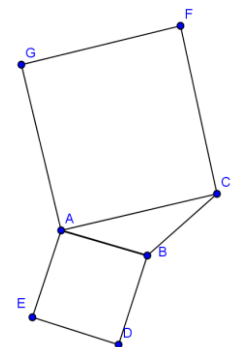
Donc : $r(E) = B$ ❶

$$\text{Et on a : } \begin{cases} AC = AG \\ (\overrightarrow{AC}, \overrightarrow{AG}) \equiv \frac{\pi}{2} [2\pi] \end{cases}$$

Donc : ❷ $r(C) = G$

Et on a : $r(A) = A$ ❸ car A le centre de la rotation

De : ❶ et ❷ et ❸ en déduit que $(\overrightarrow{CA}, \overrightarrow{CE}) \equiv (\overrightarrow{GA}, \overrightarrow{GB}) [2\pi]$



Exercice5 : ABCD est un carré de centre O tel que : $(\overrightarrow{OA}, \overrightarrow{OB})$ positif.

I et J deux points tels que : $\overrightarrow{AI} = \frac{1}{4}\overrightarrow{AB}$ et

$$\overrightarrow{BJ} = \frac{1}{4}\overrightarrow{BC}$$

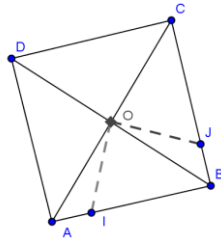
Montrer que $(OI) \perp (OJ)$ et $OI = OJ$

Solution : il suffit de montrer

que : $r(I) = J$????

On pose : $r(I) = I'$

$$\text{On a : } \begin{cases} OA = OB \\ (\overrightarrow{OA}, \overrightarrow{OB}) \equiv \frac{\pi}{2} [2\pi] \end{cases} \text{ donc}$$



$$r(A) = B$$

Et on a : $\overrightarrow{AI} = \frac{1}{4}\overrightarrow{AB}$ donc : $\overrightarrow{BI'} = \frac{1}{4}\overrightarrow{BC}$ ❶ car la

rotation conserve le coefficient de colinéarité de deux vecteurs

Et on sait que : $\overrightarrow{BJ} = \frac{1}{4}\overrightarrow{BC}$ ❷

De ❶ et ❷ en déduit que $\overrightarrow{BI'} = \overrightarrow{BJ}$ donc $I' = J$

$$\text{Donc } r(I) = J \text{ par suite : } \begin{cases} OI = OJ \\ (\overrightarrow{OI}, \overrightarrow{OJ}) \equiv \frac{\pi}{2} [2\pi] \end{cases}$$

Exercice6 : ABCD est un carré de centre O

tel que : $(\overrightarrow{OA}, \overrightarrow{OB})$ positif. Soit (D) la droite

parallèle a (BD) et coupe (AD) en M et coupe (AB) en N et Soit r la rotation de centre O et

d'angle $\frac{\pi}{2}$. E et F les images M et N

respectivement Par la rotation r

1) Faire une figure et Montrer que $(EF) \perp (MN)$

2) Déterminer l'image de la droite (BD) par la

rotation r

3) Montrer que $DN = FA$ et $(EF) \parallel (AC)$

Solution :1)

on a : ❶ $r(M) = E$

et : $r(N) = F$ ❷

de ❶ et ❷ en déduit que :

$$(\overrightarrow{MN}, \overrightarrow{EF}) \equiv \frac{\pi}{2} [2\pi]$$

donc : $(EF) \perp (MN)$

$$2) \text{ on a : } \begin{cases} OB = OC \\ (\overrightarrow{OB}, \overrightarrow{OC}) \equiv \frac{\pi}{2} [2\pi] \end{cases}$$

Donc : $r(B) = C$ ❸

$$\text{Et on a : } \begin{cases} OD = OA \\ (\overrightarrow{OD}, \overrightarrow{OA}) \equiv \frac{\pi}{2} [2\pi] \end{cases} \text{ donc } r(D) = A \text{ ❹}$$

de ❶ et ❷ en déduit que : $r((BD)) = (AC)$

3) $DN = FA$???

on a : ❶ $r(D) = A$ et ❷ $r(N) = F$

donc : $DN = FA$

$(EF) \parallel (AC)$???

On a : $(MN) \parallel (BD)$ et $r((BD)) = (AC)$ et

$r((MN)) = (EF)$

Donc : $(EF) \parallel (AC)$ car la rotation conserve le parallélisme

Exercice7 : ABC est un triangle isocèles et rectangles en A tel que : $(\overrightarrow{AB}, \overrightarrow{AC})$ positif et O le milieu du segment $[BC]$. D et E

deux points tels que : $\overrightarrow{AD} = \frac{2}{3}\overrightarrow{AB}$ et $\overrightarrow{CE} = \frac{2}{3}\overrightarrow{CA}$

Montrer que ODE est un triangle isocèles et rectangles en O

Solution : il suffit de

montrer que : $r(E) = D$????

On pose : $r(E) = E'$

$$\text{On a : } \begin{cases} OA = OC \\ (\overrightarrow{OC}, \overrightarrow{OA}) \equiv \frac{\pi}{2} [2\pi] \end{cases}$$

Donc : $r(C) = A$ ❶

$$\text{Et on a : } \begin{cases} OA = OB \\ (\overrightarrow{OA}, \overrightarrow{OB}) \equiv \frac{\pi}{2} [2\pi] \end{cases} \text{ donc : } r(A) = B \text{ ❷}$$

Et on a : $\overrightarrow{CE} = \frac{2}{3}\overrightarrow{CA}$ ❸

De ❶ et ❷ et ❸ : en déduit que : $\overrightarrow{AE'} = \frac{2}{3}\overrightarrow{AB}$ ❹ car la

rotation conserve le coefficient de colinéarité de deux vecteurs

Et on sait que : $\overrightarrow{AD} = \frac{2}{3}\overrightarrow{AB}$ ❺

De ❹ et ❺ en déduit que : $\overrightarrow{AE'} = \overrightarrow{AD}$ cad $E' = D$

Donc : $r(E) = D$ par

$$\text{suite : } \begin{cases} OE = OD \\ (\overrightarrow{OE}, \overrightarrow{OD}) \equiv \frac{\pi}{2} [2\pi] \end{cases}$$

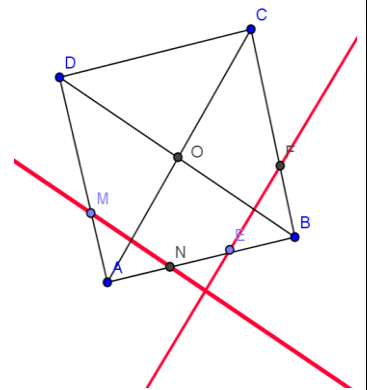
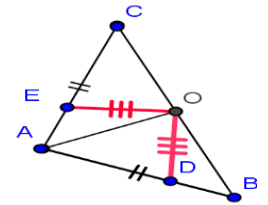
Donc ODE est un triangle isocèles et rectangles en O

Exercice8 : ABCD est un carré tel que :

$(\overrightarrow{AB}, \overrightarrow{AD})$ positif. et AED

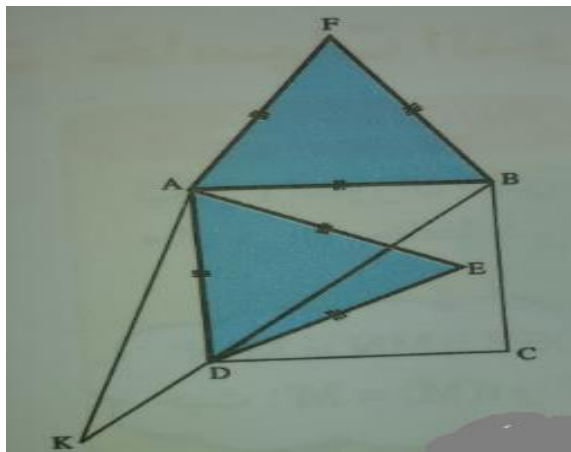
et AFB deux triangles équilatéraux

Montrer que les points : E et C et F sont alignés



Solution : soit r la rotation de centre A

et



d'angle $\frac{\pi}{3}$: $r\left(A; \frac{\pi}{3}\right)$

et soit K l'antécédent de C par r

On a : $r(B) = F$

Car $\begin{cases} AB = AF \\ (\overrightarrow{AB}, \overrightarrow{AF}) \equiv \frac{\pi}{3} [2\pi] \end{cases}$

Et on a : $r(D) = E$ Car $\begin{cases} AD = AE \\ (\overrightarrow{AD}, \overrightarrow{AE}) \equiv \frac{\pi}{3} [2\pi] \end{cases}$

Et on a : $r(K) = C$

donc : $AK = AC$ et $(\overrightarrow{AK}, \overrightarrow{AC}) \equiv \frac{\pi}{3} [2\pi]$

puisque : $AB = BC$ donc B appartient à la médiatrice du segment $[AC]$

et $AD = DC$ donc D appartient à la médiatrice du segment $[AC]$

et on a : $AK = AC$ et $(\overrightarrow{AK}, \overrightarrow{AC}) \equiv \frac{\pi}{3} [2\pi]$

donc : AKC est équilatéral donc K appartient à la médiatrice du segment $[AC]$

Donc les points : K et B et D sont alignés

Et puisque la rotation conserve les alignement des points alors : les points : E et C et F sont alignés

Exercice9 : $ABCD$ est un carré tel que : $(\overrightarrow{AB}, \overrightarrow{AD})$

positif et Soit r la rotation de centre A et

d'angle $\frac{\pi}{2}$

1) déterminer la nature de la transformation suivante : $S_{(AD)} \circ S_{(AB)}$

1) on considère les rotations suivantes : $r\left(A; \frac{\pi}{2}\right)$

et $r'\left(B; \frac{\pi}{2}\right)$ et $r''\left(C; -\frac{\pi}{2}\right)$

déterminer la nature des transformations suivante : $r \circ r'$ et $r \circ r''$

Solution : 1) $S_{(AD)} \circ S_{(AB)} = r\left(A; 2\frac{\pi}{2}\right) = r(A; \pi) = S_A$

2) a) $r \circ r'$ on a $A \neq B$ et $\frac{\pi}{2} + \frac{\pi}{2} = \pi \neq 2k\pi$ donc c'est

une rotation $r\left(?, \frac{\pi}{2} + \frac{\pi}{2}\right) = r(?, \pi)$ cad une symétrie

central

Déterminons le centre de la rotation $r \circ r'$?

On a : $r \circ r' = S_{(AC)} \circ S_{(AB)} \circ S_{(AB)} \circ S_{(BD)} = S_{(AC)} \circ S_{(BD)}$

Et puisque : $(AC) \cap (BD) = \{O\}$

Alors le centre de la rotation est le point O

2) b) $r \circ r''$???

on a $A \neq C$ et $\frac{\pi}{2} + \left(-\frac{\pi}{2}\right) = 0$ donc c'est une

translation

Déterminons le vecteur de la translation $r \circ r''$?

On a : $r \circ r''(C) = r(r''(C)) = r(C) = C'$

Avec : $\begin{cases} AC = AC' \\ (\overrightarrow{AC}, \overrightarrow{AC'}) \equiv \frac{\pi}{2} [2\pi] \end{cases}$

Donc $r \circ r''$ est une translation de vecteur $\overrightarrow{CC'}$

Exercice10 : $ABCD$ est un carré de centre O

tel que : $(\overrightarrow{OA}, \overrightarrow{OB})$ négatif. Soient M, N, P et Q quatre

points dans le plan tels que : $\overrightarrow{DQ} = \frac{1}{3}\overrightarrow{DA}$ et

$\overrightarrow{CP} = \frac{1}{3}\overrightarrow{CD}$ et $\overrightarrow{AM} = \frac{1}{3}\overrightarrow{AB}$ et $\overrightarrow{BN} = \frac{1}{3}\overrightarrow{BC}$

la droite (AN) coupe les droites (DM) et (BP)

Respectivement en E et F

la droite (CQ) coupe les droites (DM) et (BP)

Respectivement en H et G

Soit r la rotation de centre O et d'angle $-\pi/2$

1) Faire une figure dans le cas où : $AB = 6\text{cm}$

2) Montrer que : $r(M) = N$ et $r(N) = P$ et $r(P) = Q$

et $r(Q) = M$

3) a) Montrer que : $r(F) = G$

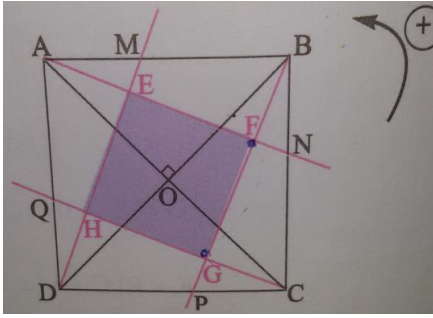
b) en déduire que : le triangle FOG est isocèle et rectangle en O

4) a) calculer : $(r \circ r)(F)$ et $(r \circ r)(E)$

4)b) en déduire que : les segments $[EG]$ et $[FH]$ ont le même milieu

5) Montrer que : EFGH est un carré

Solution :1)



$$2) \text{ on a } \begin{cases} OA = OB \\ (\overrightarrow{OA}, \overrightarrow{OB}) \equiv -\frac{\pi}{2}[2\pi] \end{cases} \text{ donc : } r(A) = B$$

$$\begin{cases} OB = OC \\ (\overrightarrow{OB}, \overrightarrow{OC}) \equiv -\frac{\pi}{2}[2\pi] \end{cases} \text{ donc : } r(B) = C$$

Et puisque $\overrightarrow{AM} = \frac{1}{3}\overrightarrow{AB}$ et la rotation conserve le coefficient de colinéarité de deux vecteurs

$$\text{Alors : } r(A)r(M) = \frac{1}{3}r(A)r(B)$$

$$\text{cad : } Br(M) = \frac{1}{3}BC \text{ et on a : } \overrightarrow{BN} = \frac{1}{3}\overrightarrow{BC}$$

$$\text{donc : } r(M) = N$$

de même : on montre que : $r(N) = P$ et $r(P) = Q$

$$\text{et } r(Q) = M$$

3) a) on montre que : $r(F) = G$?

Puisque : $r(N) = P$ et $r(A) = B$ alors : $r((AN)) = (BP)$

Et Puisque : $r(P) = Q$ et $r(A) = B$ alors :

$$r((AN)) = (BP)$$

Et puisque : $r(P) = Q$ et $r(B) = C$ alors :

$$r((BP)) = (QC)$$

Donc : $r((AN) \cap (BP)) = r((AN)) \cap r((BP))$ car r est une application injective

Donc : $r(\{F\}) = (BP) \cap (QC) = \{G\}$ par suite : $r(F) = G$

$$3) b) \text{ On a : } r(F) = G \text{ donc : } \begin{cases} OF = OG \\ (\overrightarrow{OF}, \overrightarrow{OG}) \equiv -\frac{\pi}{2}[2\pi] \end{cases}$$

Donc : le triangle FOG est isocèle et rectangle en O

4) a) On a : $r(C) = D$ et $r(Q) = M$ et $r(B) = C$

donc : $r((CQ)) = (DM)$ et puisque : $r((BP)) = (QC)$

alors : $r((CQ) \cap (BP)) = (DM) \cap (CQ)$ cad :

$$r(\{G\}) = \{H\} \text{ donc : } r(G) = H$$

on a : $(r \circ r)(F) = r(r(F)) = r(G) = H$ et on a :

$$r((AN)) = (BP) \text{ et } r((DM)) = (AN)$$

$$\text{donc : } r((AN) \cap (DM)) = (AN) \cap (BP)$$

$$\text{donc : } r(E) = F$$

$$\text{On a : } (r \circ r)(EF) = r(r(E)) = r(F) = G$$

4) b) puisque r est une rotation d'angle : $-\pi/2$

alors : $r \circ r$ est une rotation d'angle :

$$2 \times (-\pi/2) = -\pi \text{ donc } r \circ r \text{ est une symétrie}$$

central et soit K son centre

$$\text{Puisque on a : } (r \circ r)(F) = H \text{ et } (r \circ r)(E) = G$$

Alors : K est le milieu des segments $[EG]$ et $[FH]$

Donc : les segments $[EG]$ et $[FH]$ ont les mêmes milieux

4) puisque les segments $[EG]$ et $[FH]$ ont les

mêmes milieux alors : $EFGH$ est un

parallélogramme et on a aussi : $r(F) = G$ et

$$r(E) = F \text{ donc : } EF = FG \text{ et } (\overrightarrow{EF}, \overrightarrow{FG}) \equiv -\frac{\pi}{2}[2\pi]$$

Donc : EFGH est un carré.

Exercice11 : ABCD est un carré de centre O

tel que : $(\overrightarrow{AB}, \overrightarrow{AD}) \equiv \pi/2[2\pi]$. Soient I, J, K et L les

milieux respectivement des segments $[AB]$ et

$[BC]$ et $[CD]$ et $[DA]$.

1) Déterminer les mesures des angles suivants :

$$a) (\overrightarrow{AC}, \overrightarrow{AD}) \quad b) (\overrightarrow{DA}, \overrightarrow{DB}) \quad c) (\overrightarrow{CD}, \overrightarrow{CA}) \quad d) (\overrightarrow{CA}, \overrightarrow{CD})$$

2) soit $S_{(AB)}$ la symétrie axiale d'axe (AB)

soit $r_{(A; \frac{\pi}{2})}$ la rotation de centre A et d'angle $\pi/2$

et $t_{\vec{u}}$ la translation de vecteur \vec{u}

Déterminer la nature et les éléments

caractéristiques des transformations suivantes :

$$a) F = S_{(AC)} \circ S_{(BD)}$$

$$b) G = S_{(AC)} \circ S_{(AB)}$$

$$c) H = r_{(D; \pi)} \circ r_{(A; \pi)}$$

$$d) K = r_{(C; \frac{\pi}{2})} \circ r_{(D; \pi)} \circ r_{(A; \frac{\pi}{2})}$$

Solution :1) a) les droites (AC) et (BD) et (IL) et

(IK) sont des axes de symétries du carré ABCD

On a : $S_{(AC)}(A) = A$ et $S_{(AC)}(C) = C$ et $S_{(AC)}(B) = D$

Donc on déduit que : $(\overrightarrow{AC}, \overrightarrow{AD}) \equiv -(\overrightarrow{AC}, \overrightarrow{AD})[2\pi]$

$$\text{Donc : } (\overrightarrow{AC}, \overrightarrow{AD}) \equiv (\overrightarrow{AB}, \overrightarrow{AC})[2\pi]$$

$$\text{Donc : } (\overrightarrow{AC}, \overrightarrow{AD}) \equiv \frac{\pi}{4}[2\pi]$$

b) On a : $S_{(LJ)}(A) = D$ et $S_{(LJ)}(C) = B$ et $S_{(LJ)}(B) = C$

Donc on deduit que : $(\overline{DA}, \overline{DB}) \equiv -(\overline{AD}, \overline{AC}) [2\pi]$

Donc : $(\overline{DA}, \overline{DB}) \equiv (\overline{AC}, \overline{AD}) [2\pi]$

Donc : $(\overline{DA}, \overline{DB}) \equiv \frac{\pi}{4} [2\pi]$

Puisque la rotation conserve la mesure de l'angle orienté et on a : $r_{(O;\pi)}(A) = C$ et $r_{(O;\pi)}(B) = D$ et

$r_{(O;\pi)}(C) = A$ alors : $(\overline{CD}, \overline{CA}) \equiv (\overline{AB}, \overline{AC}) [2\pi]$

Donc : $(\overline{CD}, \overline{CA}) \equiv \frac{\pi}{4} [2\pi]$

d) puisque : $(\overline{CD}, \overline{CA}) \equiv \frac{\pi}{4} [2\pi]$ alors : $(\overline{CA}, \overline{CD}) \equiv -\frac{\pi}{4} [2\pi]$

2)a) $F = S_{(AC)} \circ S_{(BD)}$??

On a : $(AC) \cap (BD) = \{O\}$

Donc F est la composé de deux symétries

orthogonaux d'axes qui se coupent en O

Donc : F est rotation de centre O

Et puisque : $(AC) \perp (BD)$ alors : F est une symétrie

central de centre O ou $F = r_{(O;\pi)}$

2)b) $G = S_{(AC)} \circ S_{(AB)}$??

On a : $(AB) \cap (AC) = \{A\}$ et $(\overline{AB}, \overline{AC}) \equiv \frac{\pi}{4} [2\pi]$

Donc G est la composé de deux symétries

orthogonaux d'axes qui se coupent en A

Donc : G est rotation de centre A

$G = r_{(O;2\frac{\pi}{4})} = r_{(O;\frac{\pi}{2})}$

2)c) $H = r_{(D;\pi)} \circ r_{(A;\pi)}$??

Puisque toute rotation est le composé de deux symétries axiales on peut en déduire :

$r_{(D;\pi)} = S_{(DC)} \circ S_{(DA)}$ et $r_{(A;\pi)} = S_{(DA)} \circ S_{(AB)}$

Donc : $H = r_{(D;\pi)} \circ r_{(A;\pi)} = S_{(DC)} \circ S_{(DA)} \circ S_{(DA)} \circ S_{(AB)}$

Et puisque : $S_{(DA)} \circ S_{(DA)} = I_P$ alors : $H = S_{(DC)} \circ S_{(AB)}$

Et puisque : $(DC) \parallel (AB)$ alors : H est une

translation et puisque : $A \in (AB)$ et D la projection du point D sur la droite (DC) alors :

$S_{(DC)} \circ S_{(AB)} = t_{2\overline{AD}}$ donc : $H = t_{2\overline{AD}}$

d) $K = r_{(C;\frac{\pi}{2})} \circ r_{(D;\pi)} \circ r_{(A;\frac{\pi}{2})}$??

Puisque toute rotation est le composé de deux symétries axiales on peut en déduire :

$r_{(C;\frac{\pi}{2})} = S_{(CA)} \circ S_{(CD)}$ et $r_{(D;\pi)} = S_{(DC)} \circ S_{(DA)}$ car

$(\overline{CD}, \overline{CA}) \equiv \frac{\pi}{4} [2\pi]$

Et on a : $r_{(A;\frac{\pi}{2})} = S_{(AD)} \circ S_{(AC)}$

Donc :

$K = S_{(CA)} \circ S_{(CD)} \circ S_{(DC)} \circ S_{(AD)} \circ S_{(AC)} = S_{(CA)} \circ I_P \circ I_P \circ S_{(AC)}$

$K = S_{(CA)} \circ S_{(AC)} = I_P$

« C'est en forgeant que l'on devient forgeron »
Dit un proverbe.

C'est en s'entraînant régulièrement aux calculs
et exercices

Que l'on devient un mathématicien

